

NOME: \_\_\_\_\_



# 1º TERMO

PROFESSORA DANIELA

**USANDO AS SÍLABAS ESTUDADAS. VAMOS ESCREVER O NOME DAS FIGURAS**

SÍLABAS:

CA	A	BE	LO	BI	CA	BA	VA	DA	XI
----	---	----	----	----	----	----	----	----	----


COMPLETE COM A SÍLABA QUE FALTA.



	PON	TA	DOR
--	-----	----	-----




	LA
--	----



	VA	LO
--	----	----



	NE	LA
--	----	----



	CA
--	----

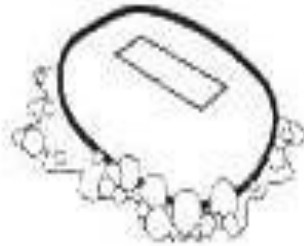


	BI	DE
--	----	----

**COMPLETE AS PALAVRAS COM AS SÍLABAS  
SA - SE - SI - SO OU SU**



\_\_\_RROTE



\_\_\_BÃO



\_\_\_NO




\_\_\_PO



\_\_\_PATO



\_\_\_IA



\_\_\_CO



\_\_\_LDADO



\_\_\_RVETE

① Efetue corretamente as adições e as subtrações.

No quadro abaixo, estão os resultados dos fatos, **exceto um**. Esse é o numeral oculto, pinte-o.

$4 + 1 =$

$2 + 0 =$

$5 - 3 =$

$2 + 1 =$

$1 + 3 =$

$5 - 4 =$

$2 + 3 =$

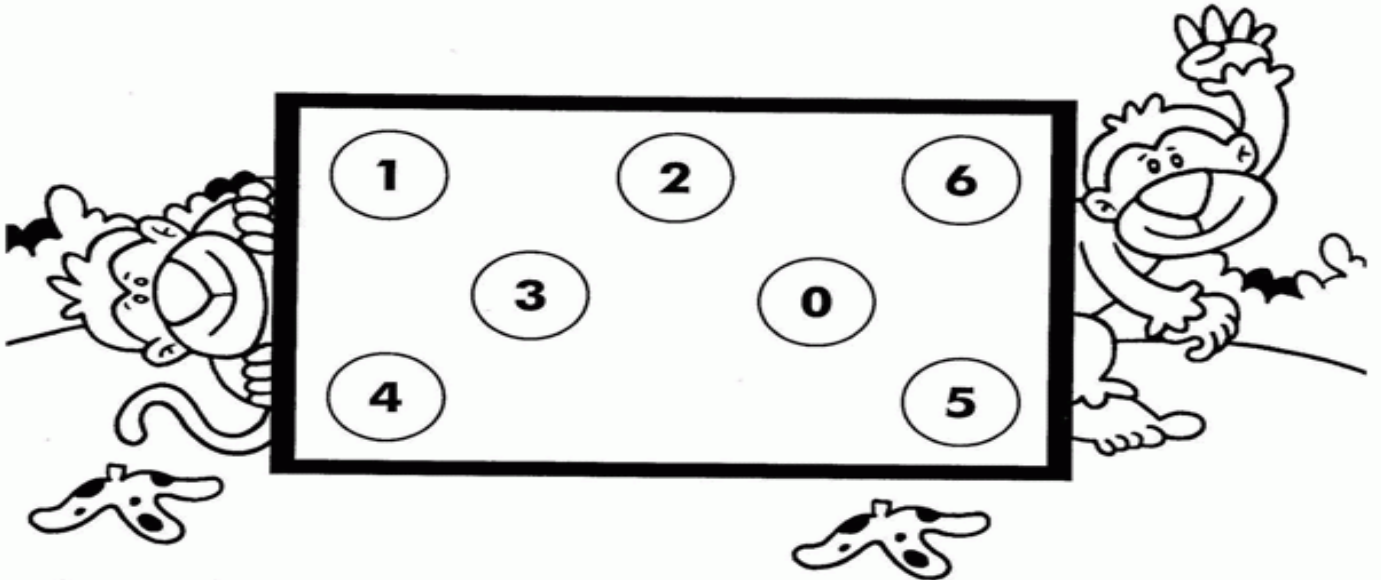
$3 - 3 =$

$5 - 1 =$

$2 + 2 =$

$4 - 1 =$

$3 - 1 =$



■ O numeral oculto é o .....

QUANTOS REAIS?



R\$



R\$



R\$



R\$

